

SULIT



UNIT UJIAN DAN PEPERIKSAAN
BAHAGIAN PENDIDIKAN DAN LATIHAN (MENENGAH)
MARA

PEPERIKSAAN PERCUBAAN
SIJIL PELAJARAN MALAYSIA 2010
PENDIDIKAN ISLAM

1223/1

Kertas 1
Ogos / September
2 jam

Dua jam

JANGAN BUKA KERTAS SOALAN INI SEHINGGA DIBERITAHU

1. *Kertas soalan ini mengandungi dua bahagian: **Bahagian A** dan **Bahagian B***
2. ***Bahagian A** mengandungi **40** soalan. Jawapan anda hendaklah ditulis pada ruangan yang disediakan.*
3. ***Bahagian B** mengandungi **empat** soalan subjektif. Jawab **tiga** soalan: **Soalan 1**, **Soalan 2** dan mana-mana **satu** soalan berikutnya. Jawapan anda hendaklah ditulis dalam helaian tambahan yang disediakan.*
4. *Tulis **nombor kad pengenalan** dan **angka giliran** anda pada ruangan yang di sediakan.*
5. *Ceraikan kertas jawapan **Bahagian A** daripada soalan, kemudian ikat kertas jawapan tersebut bersama-sama kertas jawapan **Bahagian B** dan serahkan kepada pengawas peperiksaan pada akhir peperiksaan.*

Kertas soalan ini mengandungi **16** halaman bercetak dan satu halaman tidak bercetak

Bahagian A**[40 Markah]***Jawab semua soalan***Soalan 1 hingga Soalan 20**

Tiap-tiap soalan diikuti oleh empat pilihan jawapan **A, B, C dan D**. **Hitamkan** jawapan yang tepat pada ruangan jawapan yang disediakan.

1 Mengakui bahawa Nabi Isa anak tuhan ialah contoh

- A. sihir
- B. syirik
- C. murtad
- D. khurafat

2

Encik Zakuan telah melabur harta kekayaannya ke dalam sebuah syarikat perjudian

Situasi di atas merujuk kepada

- A. nifak
- B. riddah
- C. kufur hakikat
- D. kufur nikmat

3 Apakah kesan buruk lari dari medan perang ?

- I Akan menerima pembalasan di akhirat
 - II Dihargai oleh masyarakat
 - III Merendahkan martabat Islam
 - IV Terselamat dari dibunuh
- A I dan III
 - B II dan III
 - C II dan IV
 - D III dan IV

4

Ahmad meminjam sekilo beras daripada Abdul Aziz dan membayar balik dengan dua kilo beras.

Situasi di atas merujuk kepada

- A riba Mutlak
- B riba al-Fadl
- C riba al-Yad
- D riba an-Nasih

5 Alat-alat berikut boleh digunakan untuk sembelihan **kecuali**

- A kaca
- B sembilu
- C tali nylon
- D pisau plastik yang tajam

6 Masa afdal untuk melaksanakan ibadah korban ialah

- A sebelum solat Sunat Aidil Adha 10 Zulhijah
- B selepas solat sunat Aidil Adha sehingga terbit fajar 11 Zulhijah
- C selepas solat sunat Aidil Adha sehingga gelincir matahari 10 Zulhijah
- D selepas solat sunat Aidil Adha sehingga terbenam matahari 10 Zulhijah

7 Pilih pernyataan yang **benar** tentang kelebihan haji Iفراد.

- I Lebih afdal
 - II Mudah dilakukan
 - III Tidak dikenakan dam
 - IV Mengambil masa yang singkat
- A I dan II
 - B I dan III
 - C II dan III
 - D III dan IV

8

- Beriktikad Saidina Ali dan imam-imam mereka yang lain sebagai tuhan.
- Beriktikad Imam Muhammad bin al-Hanafiah masih hidup.
- Menghalalkan beberapa kemungkaran seperti minum arak.

Pernyataan di atas merujuk kepada prinsip pegangan

- A Khawarij
 - B Muktazilah
 - C Syiah Imamiah
 - D Syiah Batiniah
- 9 Berikut adalah ciri-ciri kemanisan iman **kecuali**
- A benci kepada kekufuran
 - B beribadat hanya kerana Allah
 - C mengasihi sesama manusia kerana Allah
 - D cinta kepada Allah dan Rasul lebih dari segala-galanya
- 10 Pengasas ajaran Qadiani ialah
- A Ahmad Mirza Ghulam
 - B Mirza Ahmad Ghulam
 - C Mirza Ghulam Ahmad
 - D Muhamad Mirza Ghulam
- 11 Encik Johan mengerjakan haji dan pulang ke tanah air tanpa melakukan tawaf widak. Nyatakan jenis dam yang dikenakan kepada beliau.
- A Tertib Takdir
 - B Tertib Ta'dil
 - C Takhyir Takdir
 - D Takhyir Ta'dil

- 12 Ajaran Taslim mula muncul di negeri
- A Perak
 - B Kedah
 - C Selangor
 - D Pulau Pinang
- 13 Miqat bagi jemaah haji Malaysia yang menaiki kapal terbang terus ke Jeddah ialah
- A Juhfah
 - B Yalamlam
 - C Zulhulaifah
 - D Qarnul Manazil
- 14 Sejenis terbitan yang dikeluarkan oleh syarikat sebagai alat pemilikan ialah
- A saham
 - B insuran
 - C jual Beli
 - D gadaian
- 15 Zihar **tidak** berlaku jika suami menyamakan isteri dengan perempuan
- A mahram sementara
 - B mahram dengan sebab nasab
 - C mahram dengan sebab susuan
 - D mahram dengan sebab persemendaan
- 16 Isteri diharuskan menuntut fasakh apabila suami meninggalkannya selama
- A 2 tahun
 - B 3 tahun
 - C 4 tahun
 - D 5 tahun

- 17 Cinta kepada negara dapat dicapai melalui
- A mencapai kecemerlangan di peringkat antarabangsa
 - B mengagungkan pemimpin tertentu
 - C memenuhi kehendak peribadi
 - D fanatik dengan bangsa sendiri
- 18 Siapakah khalifah Islam yang terkenal dengan gelaran Zu Nurain ?
- A Abu Bakar al-Siddiq radiallahuanhu
 - B Umar bin al-Khattab radiallahuanhu
 - C Uthman bin Affan radiallahuanhu
 - D Ali bin Abi Talib radiallahuanhu

19

- Dilahirkan pada tahun 450 Hijrah
- Meninggal dunia di Tus
- Digelar Hujjatul Islam

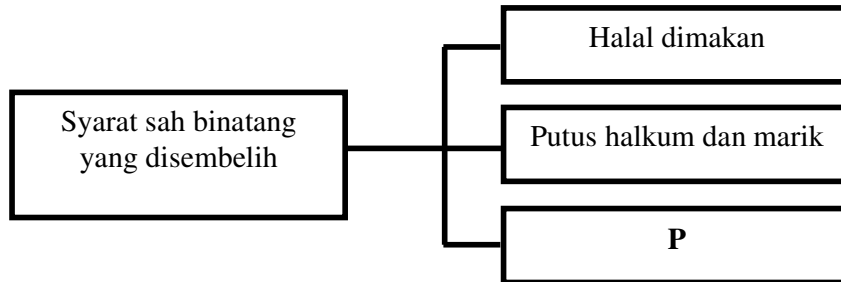
Siapakah tokoh di atas ?

- A Imam Ahmad bin Hanbal
 - B Imam al-Bukhari
 - C Imam as-Syafie
 - D Imam al-Ghazali
- 20 Berikut merupakan susunan kaedah yang digunakan Imam Abu Hanifah dalam menetapkan hukum.
- A Al-Quran, al-Ijmak, al-Sunnah , al-Qias
 - B Al-Quran, al-Sunnah, al-Ijmak , al-Qias
 - C Al-Quran, al Qias, al-Ijmak, al-Sunnah
 - D Al-Quran, al-Sunnah , al-Qias, al-Ijmak

Soalan 21 hingga Soalan 40

Isi tempat kosong dengan jawapan yang sesuai

21



P dalam rajah di atas ialah

22 Penyokong Saidina Ali yang berpaling tadah dan menentang Muawiyah dikenali dengan nama

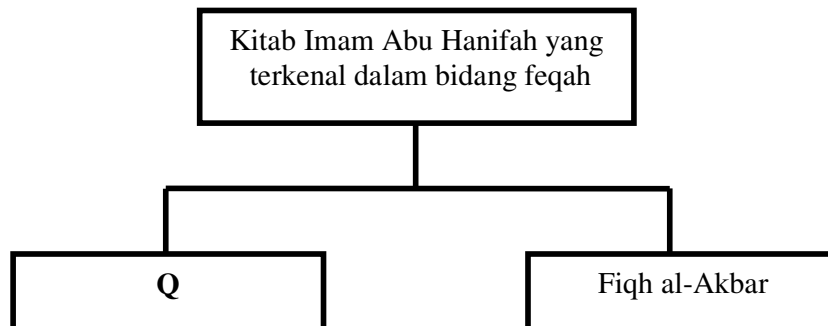
23 Pengumpulan dana oleh satu kumpulan untuk saling bekerjasama apabila ahlinya ditimpa musibah ialah

24

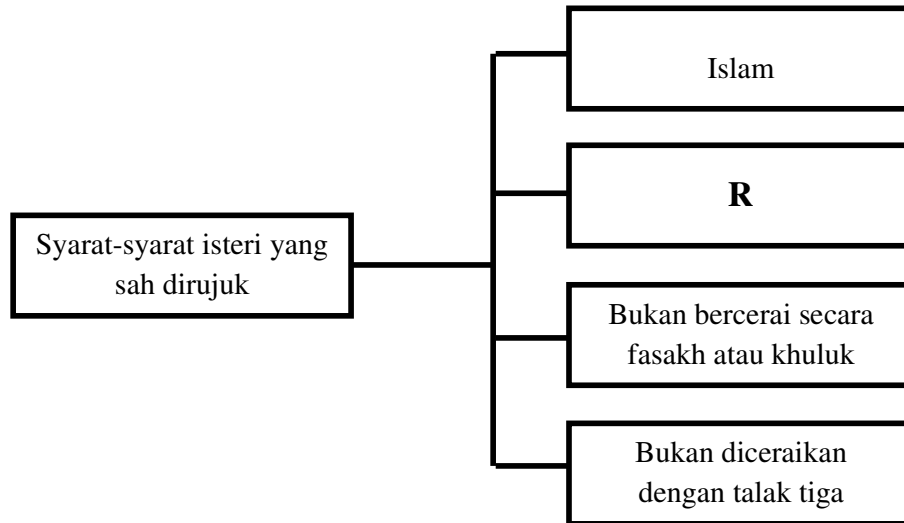
- Beriktidad bahawa pengasasnya adalah jelmaan Allah
- Beriktidad bahawa alam bersifat baqa'
- Memansuhkan agama Islam

Pernyataan di atas merujuk kepada ajaran

25



26



R dalam rajah di atas ialah

27

Encik Khalid berkata kepada isteri yang diceraikannya “Aku pegang engkau kembali ”

Rujuk di atas menggunakan lafaz

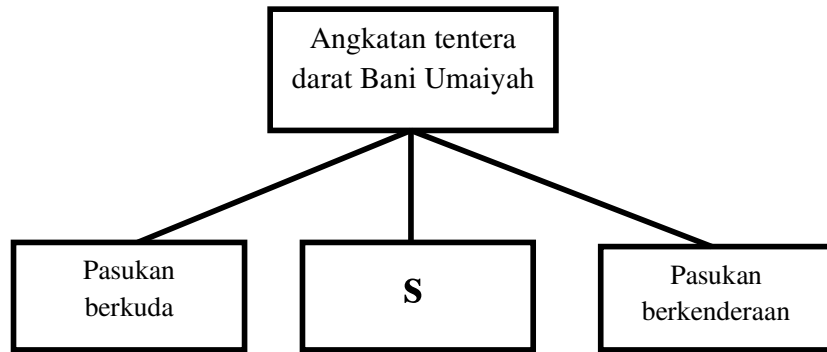
28 Kita disunatkan ketika nama Rasulullah SAW disebut.

29 Al-Sayid Jamaluddin al-Afghani banyak merantau ke beberapa buah negara untuk menyebarkan idea

30 Siti Zaleha telah menipiskan bulu kening dua hari sebelum majlis persandingannya. Hukum perbuatan tersebut adalah

31 Imam Ahmad bin Hanbal juga dikenali dengan gelaran kerana menghafal lebih dari 700,000 hadis.

32



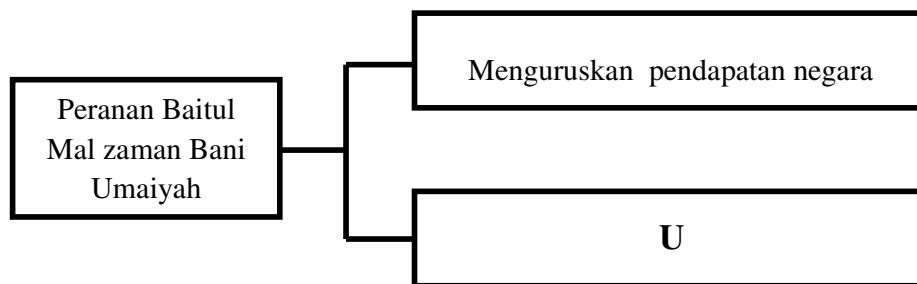
S dalam rajah di atas ialah

33

Panglima perang	Wilayah yang dibuka
Mohammad bin al-Qasim al-Saqafi	Wilayah Sind di India
T	Andalus (Sepanyol)

T dalam rajah di atas ialah

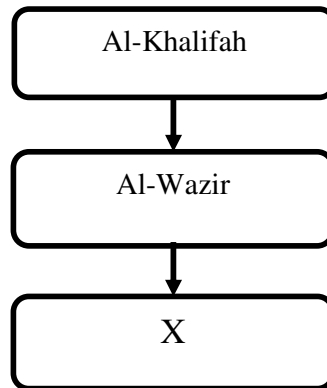
34



U dalam rajah di atas ialah

35 Sabar mendengar rungutan pesakit merupakan adab menjaga orang sakit dalam aspek.....

36



X dalam sistem pemerintahan kerajaan Abbasiyah di atas ialah

37 Syeikh Tahir Jalaluddin terkenal dengan gelaran kerana kepakarannya dalam bidang astronomi.

38 Al-Syarif al-Idrisi merupakan tokoh ilmuan dalam bidang

39

- Hubungan suami isteri terpisah
- Suami terlepas dari hukuman qazaf
- Suami dan isteri haram berkahwin semula selama-lamanya

Pernyataan di atas merujuk kepada kesan terhadap suami isteri.


40 Syiah mengharuskan perkahwinan mut'ah.

Bahagian B

[60 markah]

Jawab **tiga** soalan : **Soalan 1**, **Soalan 2** dan mana-mana **satu** soalan berikutnya.

1 (a) Firman Allah SWT :



Maksudnya : Dan sesiapa antara kamu murtad dari agamanya lalu dia mati sedangkan dia tetap kafir, maka rosaklah amal usahanya di dunia dan akhirat.

- (i) Nyatakan maksud riddah. [2 markah]
- (ii) Jelaskan **dua** faktor yang membawa kepada riddah. [4 markah]
- (iii) Jelaskan **dua** cara anda menghindarkan diri daripada gejala tersebut. [4 markah]
- (b) (i) Nyatakan nama **dua** orang pengasas mazhab Ahli al-Sunnah Wal-Jamaah. [2 markah]
- (ii) Jelaskan **dua** prinsip akidah Ahli al-Sunnah Wal-Jamaah. [4 markah]
- (iii) Terangkan **dua** kepentingan berpegang teguh dengan akidah Ahli al-Sunnah Wal-Jamaah. [4 markah]

2 (a)



Gambar 1
Gambar kenduri akikah

- (i) Nyatakan **dua** contoh binatang yang sah dibuat akikah. [2 markah]
- (ii) Jelaskan **dua** persamaan antara korban dan akikah. [4 markah]
- (iii) Terangkan **dua** cara menyambut ulangtahun kelahiran yang bertentangan dengan syarak. [4 markah]

(b)



Gambar 2
Gambar kamar perbicaraan di Mahkamah Syariah

- (i) Apakah maksud fasakh ? [2 markah]
 - (ii) Jelaskan **dua** hikmat diharuskan fasakh. [4 markah]
- (c) Nyatakan hukum dan alasan bagi situasi berikut:
- (i) Ali menyentuh kaabah ketika sedang tawaf. [2 markah]
 - (ii) Razi menjatuhkan talak ke atas isterinya dalam keadaan mabuk kerana minum arak. [2 markah]


3 (a)

**Gambar 3**

Gambar produk kecantikan

- (i) Jelaskan **dua** garis panduan dalam memilih produk kecantikan. [4 markah]
- (ii) Terangkan **dua** kebaikan berhias diri. [4 markah]

(b)

**Gambar 4**

Gambar kemajuan sains dan teknologi

- (i) Nyatakan dua bandar yang menjadi pusat perkembangan sains dan teknologi pada zaman Abbasiyah. [2 markah]
- (ii) Jelaskan **dua** usaha yang dilakukan oleh khalifah kerajaan Abbasiyah untuk memajukan bidang sains dan teknologi. [4 markah]

(c)

**Gambar 5**

Gambar Syeikh Tahir Jalaludin

Syeikh Tahir Jalaludin merupakan seorang tokoh pemikir tanahair yang gigih memperjuangkan idea islah.

(i) Nyatakan **dua** jawatan yang pernah disandang oleh beliau. [2 markah]

(ii) Jelaskan **dua** sumbangan beliau dalam bidang ilmu dan pemikiran.

[4 markah]

4 (a)

**Gambar 6**

Gambar tempat rekreasi

Tempat rekreasi yang baik mempunyai kemudahan fizikal dan prasarana yang lengkap.

(i) Nyatakan **dua** kemudahan fizikal yang perlu ada di tempat rekreasi. [2 markah]

(ii) Jelaskan **dua** faedah rekreasi dari aspek psikologi. [4 markah]

(b) Kekuatan ekonomi kerajaan Bani Umayyah bergantung kepada sektor perdagangan.

(i) Nyatakan **dua** sumber kewangan kerajaan Bani Umayyah. [2 markah]

(ii) Jelaskan **dua** usaha kerajaan Bani Umayyah bagi mengukuhkan ekonomi negara. [4 markah]

(c) Imam Malik merupakan seorang ulama Fekah yang terkenal.

(i) Nyatakan riwayat hidup Imam Malik. [2 markah]

(ii) Nyatakan **dua** bidang ilmu yang menjadi rujukan ulama daripada kitab al-Muwatto'. [2 markah]

(iii) Jelaskan **dua** kegigihan beliau yang boleh anda contohi untuk menjadi pelajar cemerlang. [4 markah]

KERTAS SOALAN TAMAT.

KERTAS JAWAPAN UNTUK BAHAGIAN A

NAMA : _____ KELAS : _____

NO. KAD PENGENALAN

--	--	--	--	--	--	--	--	--	--	--	--	--	--	--	--	--	--	--	--

ANGKA GILIRAN

--	--	--	--	--	--	--	--	--	--	--	--	--	--	--	--	--	--	--	--

- | | | | | | | |
|----|---|---|---|---|----|-------|
| 1 | A | B | C | D | 21 | _____ |
| 2 | A | B | C | D | 22 | _____ |
| 3 | A | B | C | D | 23 | _____ |
| 4 | A | B | C | D | 24 | _____ |
| 5 | A | B | C | D | 25 | _____ |
| 6 | A | B | C | D | 26 | _____ |
| 7 | A | B | C | D | 27 | _____ |
| 8 | A | B | C | D | 28 | _____ |
| 9 | A | B | C | D | 29 | _____ |
| 10 | A | B | C | D | 30 | _____ |
| 11 | A | B | C | D | 31 | _____ |
| 12 | A | B | C | D | 32 | _____ |
| 13 | A | B | C | D | 33 | _____ |
| 14 | A | B | C | D | 34 | _____ |
| 15 | A | B | C | D | 35 | _____ |
| 16 | A | B | C | D | 36 | _____ |
| 17 | A | B | C | D | 37 | _____ |
| 18 | A | B | C | D | 38 | _____ |
| 19 | A | B | C | D | 39 | _____ |
| 20 | A | B | C | D | 40 | _____ |

Untuk Kegunaan Pemeriksa			
Bahagian	Soalan	Markah Penuh	Markah Diperoleh
A	1 hingga 40	40	
B	1	20	
	2	20	
	3	20	
	4	20	
Jumlah		100	